

SUPERINTENDÊNCIA GERAL DE EDUCAÇÃO E CULTURA  
 Departamento de Ensino Elementar

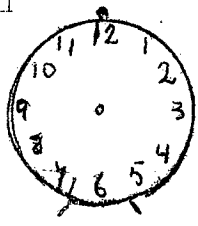
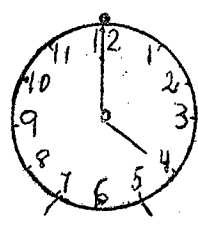
1963

PROVA FINAL DE ARITMÉTICA E GEOMETRIA

2ª série

Escola - Classe: .....  
 Data: .....  
 Professora: .....  
 Aluno: .....

1							
2	<p>12 - 9 - 15 - 16 - 18.</p>						
3	<p>Sábado é o ..... dia da semana.          Novembro é o ..... mês do ano.</p> <p>4º - 7º - 10º - 11º - 9º</p>						
4	<p>5 5 5 5</p>						
5	<p>a) _____ b) _____          c) _____</p>						
6	<table border="1" style="width: 100%; height: 100%;"> <tr> <td style="text-align: center;"></td> <td style="text-align: center;">_____</td> </tr> <tr> <td style="text-align: center;"></td> <td style="text-align: center;">_____</td> </tr> <tr> <td style="text-align: center;"></td> <td style="text-align: center;">_____</td> </tr> </table>		_____		_____		_____
	_____						
	_____						
	_____						

7	<p>Leia e resolva</p> <p>Paulo tem 48 balas para distribuir entre seus 8 amiguinhos. Quantas balas ele dará a cada amiguinho?</p> <p>R: .....</p>
8	<p>Rodrigo foi comprar laranjas. O vendedor deu-lhe o preço de cada laranja. Que operação Rodrigo fez para saber quanto deveria pagar?</p> <p>Subtração      -      Multiplicação      -      Divisão</p> <p>Riscar a resposta certa</p>
9	<p>Armando comprou 2 picolés a Cr\$ 30,00 cada um. Pagou com uma nota de cem cruzeiros. Que troço recebeu?</p> <p>R: Ele recebeu de troço:</p> <p>Cr\$ 20,00      -      Cr\$ 40,00      -      Cr\$ 10,00</p> <p>(risque a resposta certa)</p>
10	<p>Maria se levanta às 7 horas e gasta 45 minutos para se aprontar. A que horas ela sai para a escola?</p> <p>a) Marque no primeiro relógio, a hora em que Maria sai para a escola.</p> <p>b) Que hora está marcando o 2º relógio?</p> <p>R: .....</p> <div style="display: flex; justify-content: space-around; align-items: center;">   </div>
11	<p>Complete:</p> <p>Em 2 metros temos ..... meios metros.</p> <p>Em 1 litro temos ..... quartos de litro.</p> <p>Em 50 centímetros temos ..... quartos de metro.</p>

12

Vamos resolver estas operações?

$63 : 7 =$

$9 \times 6 =$

$74$

$+ 48$

$453$

$- 275$

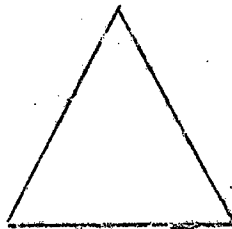


$302$

$\times 4$

$249$

$8$

13



14

A multiplicação é a adição de grupos iguais.

Sim

Não